

विद्यालय का नाम:—.....

तृतीय योगात्मक आंकलन—2022—23

विषय—गणित

कक्षा—2

दिनांक:—.....

नाम.....

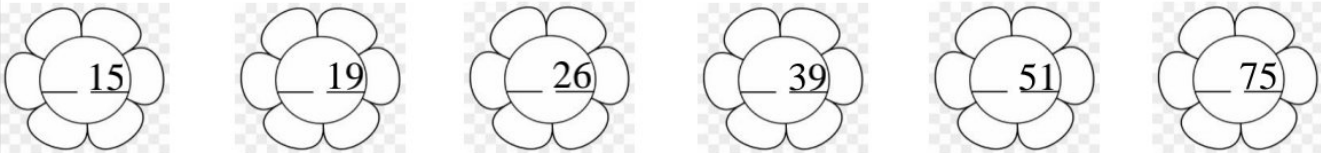
रोल नं०.....

प्राप्त ग्रेड:—.....

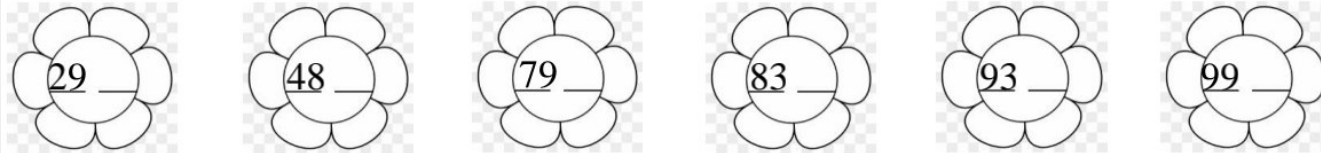
1. नीचे लिखी गई संख्याओं के बीच में आने वाली संख्या लिखो:—

(अ) 40 42 (ब) 98 100 (स) 108 110 (द) 150 152

2. ठीक पहले आने वाली संख्या लिखो:—



3. ठीक बाद में आने वाली संख्या लिखो:—



4. दी गई संख्याओं में से छोटी संख्या पहचानकर गोला:—

(अ) 51 15 25 45 (ब) 29 92 39 51

(स) 44 34 24 64 (द) 14 41 13 31

5. मिलान कीजिए:—

15+10	89
39+11	129
45+45	50
96+33	25
54+35	90

6. मिलान कीजिए:—

69-10	123
54-24	43
145-22	59
49-25	30
98-55	24

7. पैटर्न आगे बढ़ाओ:—

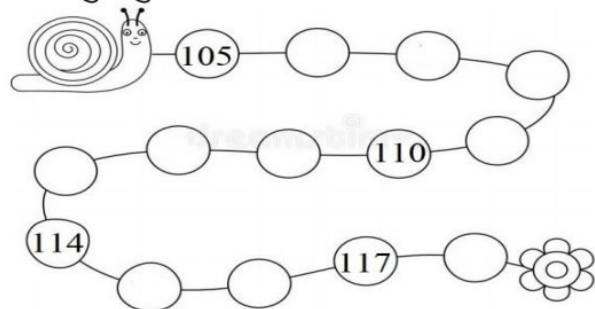
(अ) 5, 6, 7, 8, 9,,,

(ब) 3, 5, 7, 9, 11,,,

(स) 5, 10, 15, 20,,,

(द) 6, 9, 12, 15,,,

8. छुटे हुए अंक लिखिए:—



9. जोड़ कीजिए-

$$\begin{array}{r} 564 \\ +439 \\ \hline \end{array}$$

$$\begin{array}{r} 766 \\ +407 \\ \hline \end{array}$$

$$\begin{array}{r} 956 \\ +453 \\ \hline \end{array}$$

$$\begin{array}{r} 675 \\ +435 \\ \hline \end{array}$$

$$\begin{array}{r} 885 \\ +358 \\ \hline \end{array}$$

$$\begin{array}{r} 678 \\ +289 \\ \hline \end{array}$$

10. घटाव कीजिए:-

$$\begin{array}{r} 954 \\ -432 \\ \hline \end{array}$$

$$\begin{array}{r} 675 \\ -234 \\ \hline \end{array}$$

$$\begin{array}{r} 987 \\ -456 \\ \hline \end{array}$$

$$\begin{array}{r} 978 \\ -354 \\ \hline \end{array}$$

$$\begin{array}{r} 556 \\ -124 \\ \hline \end{array}$$

$$\begin{array}{r} 673 \\ -203 \\ \hline \end{array}$$

11. गुणा कीजिए:-

$$\begin{array}{r} 443 \\ \times 2 \\ \hline \end{array}$$

$$\begin{array}{r} 732 \\ \times 3 \\ \hline \end{array}$$

$$\begin{array}{r} 432 \\ \times 2 \\ \hline \end{array}$$

$$\begin{array}{r} 613 \\ \times 3 \\ \hline \end{array}$$

$$\begin{array}{r} 500 \\ \times 5 \\ \hline \end{array}$$

$$\begin{array}{r} 202 \\ \times 4 \\ \hline \end{array}$$

12. बड़ी संख्या पर (✓) लगाइये:-

63	36
----	----

79	97
----	----

63	39
----	----

55	53
----	----

69	79
----	----

13. रिक्त स्थानों में >, < या = चिह्न लगाओ:-

39		47
----	--	----

25		98
----	--	----

36		36
----	--	----

198		189
-----	--	-----


14. आकृतियों को देखकर उनके नाम के साथ मिलान कीजिए-



त्रिभुज



आयत



वर्ग



वृत्त

अध्यापक टिप्पणी:-.....