

विद्यालय का नाम:—.....

तृतीय योगात्मक आंकलन—2022—23

विषय—पर्यावरण अध्ययन

कक्षा—3

दिनांक:—.....

नाम.....

रोल नं०.....

प्राप्त ग्रेड:—.....

1. निम्न में से किस जीव के दाँत नहीं हैं?

(अ) घोड़ा (ब) बिच्छु (स) बकरी (द) गधा ()

2. निम्न में से कौनसा जानवर रेगिस्तान का जहाज कहलाता है?

(अ) बिल्ली (ब) ऊँट (स) गाय (द) हाथी ()

3. दीपावली के दिन किसकी पूजा की जाती है?

(अ) सीताजी (ब) हनुमान जी (स) रामजी (द) लक्ष्मी जी ()

4. पक्षी कहाँ रहते हैं?

(अ) घोंसलों में (ब) घर में (स) बिल में (द) छते में ()

5. सूरज कौनसी दिशा में उदय होता है?

(अ) पश्चिम (ब) उत्तर (स) पूर्व (द) दक्षिण ()

—रिक्त स्थानों की पूर्ति करो:—

(छोटी, फाटक, बायाँ हाथ, टेलीविजन, कुम्हार)

6. उल्टे हाथ को.....भी कहते हैं।

7. मिट्टी के बर्तन.....बनाता है।

8. परिवार समाज की सबसे.....इकाई है।

9. जब ट्रेन आ रही हो तो.....बन्द होते हैं।

10.को नजदीक बैठकर नहीं देखना चाहिए।

11. दो जंगली जानवरों के नाम लिखिए—

1..... 2.....

12. दो पालतु जानवरों के नाम लिखिए—

1..... 2.....

13. दो जलीय जीवों के नाम लिखिए—

1.....

2.....

14. निम्न वाहनों में कितने पहिए होते हैं?

1. बस.....

2. स्कूटर.....

3. जीप.....

4. कार.....

15. निम्न चित्रों को देखकर मिलान करो:-



पीपल




गाय

मक्का

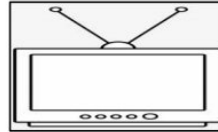
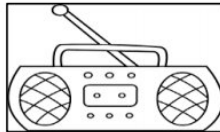

मछली

गेहूँ




16. नीचे दिये गये यातायात के चित्रों को देखकर नाम लिखिए:-



17. नीचे दिये गये संचार चित्रों को पहचान कर उनके नाम लिखिए:-



18. नीचे दिये गये चित्रों को पहचान कर उनके नाम लिखिए:-



19. अपनी पंसद की रंगोली बनाकर उसमें रंग भरो:-

अध्यापक टिप्पणी:-.....